

Adı, soyadı: .....

## MATEMATİK

A- Aşağıdaki saatlerin kaçı gösterdiğini altlarına yazınız.(9 puan)



-----



-----



-----



-----



-----



-----



-----



-----



-----

B- Aşağıdaki saatleri ile okunuşlarını eşleştiriniz. (3 puan)



07.15



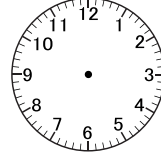
05.00



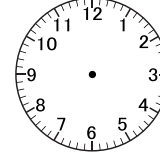
02.20

04.10

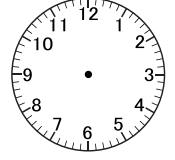
C- Aşağıdaki saatlerin içine altlarında verilen saatleri çiziniz. (6 puan)



06.15



18.30



14.45

D- Bir öğrenci, bir yılda 245 gün kitap okudu.Bir yılda kitap okumadığı günlerin sayısı kaçtır?(4 puan)

E- Bir tiyatro oyunu 09.10'da başlamış, 09.35'te bitmiştir.Tiyatro kaç dakika sürmüştür ?(4 puan)

F- Aşağıdaki boşlukları uygun ifadeler ile doldurunuz. (8 puan)

1 yıl ..... gündür.

1 yılda ..... ay vardır.

1 yıl ..... haftadan oluşur.

1 hafta ..... gündür.

### Puanlama Sistemi

Geliştirilmeli

(0-16)



Yeterli

(17-24)



İyi

(25-29)



Çok İyi

(30-34)

