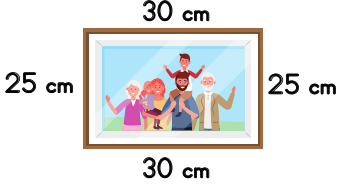


Adı, soyadı: .....

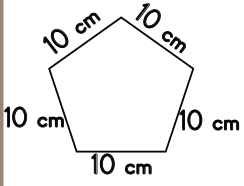
## MATEMATİK

A- Aşağıdaki çerçevenin çevre uzunluğunu bulunuz. (4 puan)

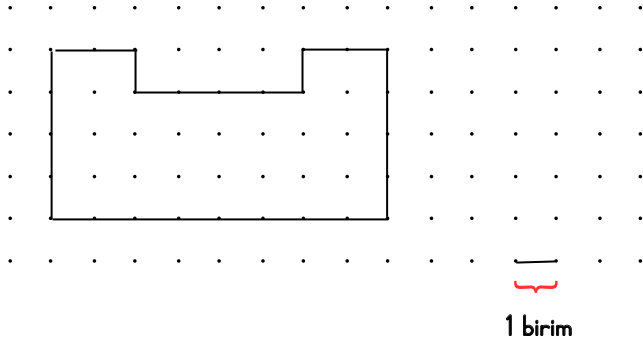


B- Aşağıdaki şeklin çevre uzunluğunu bulunuz.

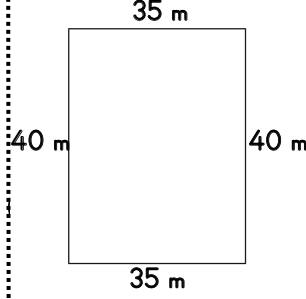
(4 puan)




B- Noktalı kâğıt üzerindeki şeklin çevre uzunluğunu bulunuz. (4 puan)



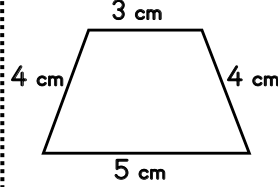
D- Aşağıdaki arsanın etrafına dikenli tel çekilecektir. Bu iş için kaç metre dikenli tele ihtiyaç vardır? (4 puan)



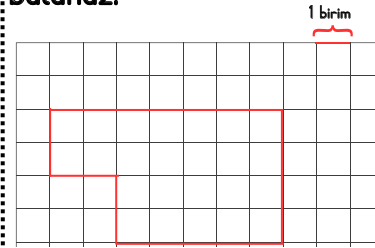
E- Banyo zemini kaç karo büyüklüğündedir? (4 puan)



F- Aşağıdaki şeklin çevre uzunluğunu bulunuz. (4 puan)



G- Kareli kâğıt üzerindeki şeklin çevre uzunluğunu bulunuz. (4 puan)



## Puanlama Sistemi

Geliştirilmeli

(0-13)



Yeterli

(14-19)



İyi

(20-24)



Çok İyi

(25-28)

