

Adı, soyadı:


FEN BİLİMLERİ

A- Aşağıdaki cümlelerden doğru olanlara (D), yanlış olanlara (Y) yazınız. (8 Puan)

- () Varlıklar, canlı ve cansız olmak üzere ikiye ayrılır.
- () Su, toprak ve hava cansız varlıklardır.
- () Sokakta çöpleri yere atabiliriz çünkü onları toplamak temizlik görevlilerinin işidir.
- () Piknik alanlarını temiz bırakmak hepimizin görevidir.
- () Ev ve fabrikaların bacalarından çıkan duman çevreye zarar vermez.
- () Okul binası yapay çevredir.
- () Kapadokya Peribacaları, doğal anıta örnektir.
- () Okulumuzun bahçesi millî parka örnektir.

B- Aşağıdaki görsellerden canlı varlık olanlara D, cansız varlık olanlara Y yazınız.


(6 Puan)



.....

C- Aşağıdaki görsellerden doğal çevre olanlara D, yapay çevre olanlara Y yazınız.

(6 Puan)




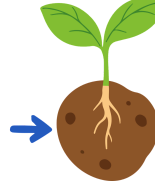
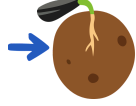
.....

Ç- Canlıların ortak özelliklerini yazınız. (7 Puan)

.....
.....
.....
.....
.....
.....
.....

Adı, soyadı:

D- Aşağıda bitkilerin yaşam döngüsü görseli verilmiştir.Bitkinin gelişim evresine ait kavramları altlarına yazınız. (8 Puan)



.....

.....

.....

.....

E- Doğal çevreyi korumak için neler yapabiliriz iki örnek yazınız. (6 Puan)

.....
.....

G- Aşağıdaki cümleleri verilen ifadelerden uygun olanı kullanarak tamamlayınız.(10 Puan)

cansız

doğal
anıtlara

geri
dönüşüm

köklerini

yapay

- 1) Bahçe ve tarla çevredir.
- 2) Kalem,silgi ve yapıştırıcı varlıktır.
- 3) Pamukkale Travertenleri örnektir.
- 4)..... olan maddeler ayrıştırılarak farklı kutulara atılmalıdır.
- 5) Bitkiler, toprağın içine uzatarak hareket eder.

Geliştirilmeli
(0-25)



Yeterli
(26-36)



İyi
(37-44)



Çok iyi
(45-51)



Başarılar Dilerim...