
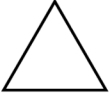


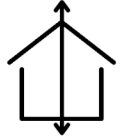
1-) Aşağıdaki şekillerden iki eş parçaya ayrılabilenleri boyayınız.



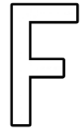

2-) Aşağıdaki şekilleri iki eş parçaya ayırınız.



3-) Aşağıdaki şekillerden hangileri iki eş parçaya ayrılmıştır.



4-) Aşağıdaki harflerden hangileri iki eş parçaya ayrılabilir işaretleyiniz.



PUANLAMA SİSTEMİ

Geliştirmeli

Yeterli

İyi

Çok iyi

(0-2)

(3-5)

(6-8)

(9-10)

