

Adı, soyadı:

MATEMATİK

A- Sepetin içinde 25 tane elma vardır. 25'ten başlayarak sepetin dışındaki elmaların sayısını bulunuz.(2 puan)



..... tane elma vardır.

B- Aşağıda okunuşları verilen sayıları rakam olarak yazınız. (8 puan)

doksan beş : yirmi yedi :

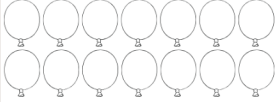
seksen üç : kırk altı :

C- Aşağıdaki sayıların okunuşlarını yanına yazınız. (8 puan)

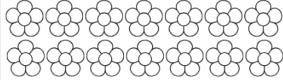
35 : 19 :

57 : 74 :

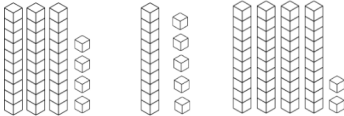
D- Aşağıdaki balonların bir destesini boyayınız. (3 puan)



E- Aşağıdaki çiçeklerin bir düzinesini boyayınız. (3 puan)



F- Aşağıda onluk ve birlik taban blokları ile modellenen sayıları yazınız. (6 puan)



.....

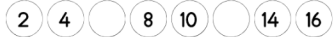
.....

.....

G- Aşağıdaki tabloda noktalı yerleri tamamlayınız. (6 puan)

Sayı	
Basamak adı	Onlar basamağı
Basamak değeri	80	7
Okunuşu	

H- Aşağıdaki ritmik sayılarda boş bırakılan yerleri tamamlayınız. (8 puan)



H- Aşağıdaki örüntüde kuralı bozan sayının altındaki kutucuğu işaretleyiniz. (4 puan)



I- Aşağıdaki sayıları küçükten büyüğe doğru sıralayınız. (8 puan)



I- Verilen sayıları okunuşları ile eşleştiriniz. (6 puan)



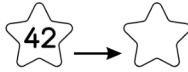
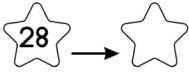
yirmi yedinci

üçüncü

on beşinci

MATEMATİK

J- Aşağıdaki sayılar hangi onluğa yakındır? Yazınız. (6 puan)



K- Aşağıda verilen toplama işlemlerini çözünüz. (16 puan)

$$\begin{array}{r} 54 \\ + 32 \\ \hline \end{array}$$

$$\begin{array}{r} 61 \\ + 27 \\ \hline \end{array}$$

$$\begin{array}{r} 44 \\ + 42 \\ \hline \end{array}$$

$$\begin{array}{r} 72 \\ + 25 \\ \hline \end{array}$$

$$\begin{array}{r} 34 \\ + 28 \\ \hline \end{array}$$

$$\begin{array}{r} 55 \\ + 39 \\ \hline \end{array}$$

$$\begin{array}{r} 46 \\ + 37 \\ \hline \end{array}$$

$$\begin{array}{r} 79 \\ + 15 \\ \hline \end{array}$$

L- Aşağıda verilen çıkarma işlemlerini çözünüz. (16 puan)

$$\begin{array}{r} 78 \\ - 32 \\ \hline \end{array}$$

$$\begin{array}{r} 44 \\ - 32 \\ \hline \end{array}$$

$$\begin{array}{r} 95 \\ - 74 \\ \hline \end{array}$$

$$\begin{array}{r} 86 \\ - 12 \\ \hline \end{array}$$

$$\begin{array}{r} 82 \\ - 37 \\ \hline \end{array}$$

$$\begin{array}{r} 63 \\ - 19 \\ \hline \end{array}$$

$$\begin{array}{r} 51 \\ - 37 \\ \hline \end{array}$$

$$\begin{array}{r} 95 \\ - 46 \\ \hline \end{array}$$

Puanlama Sistemi

Geliştirilmeli

(0-49)



Yeterli

(50-69)



İyi

(70-84)



Çok İyi

(85-100)

